

日本歴史—1 (解答番号 1 ~ 10) 平成 20 年度

各問題に対する解答は配付したマークシートの解答欄にマークすること。例えば 20 と表示のある問題に対して⑤と解答する場合は、解答番号 20 の解答欄の⑤にマークすること。

1 次の設問(1)~(5)を読んで、正解をそれぞれ下の語群①~⑤から 1 つ選び、また、下線部にもっとも関係する都道府県を地図上の番号①~⑫から 1 つ選んで、解答欄にマークしなさい。(各 2 点×10=20 点)

(1) 天正遣欧使節を派遣したキリシタン大名のひとりで、マードレ・デ・デウス号事件ののち切腹を命じられた。

- ① 伊達政宗 ② 有馬晴信 ③ 蒲生氏郷 ④ 黒田如水 ⑤ 小西行長 用語 1 地図 2

(2) 時宗の繪本山で、国宝の一遍上人絵伝や重要文化財の後醍醐天皇像などを所有している。

- ① 南禅寺 ② 相国寺 ③ 清浄光寺 ④ 寛永寺 ⑤ 天龍寺 用語 3 地図 4

(3) 江戸時代前期の朱子学者で南学派 (海南学派)に属し、外様大名の家老となって藩政改革をおこなった。

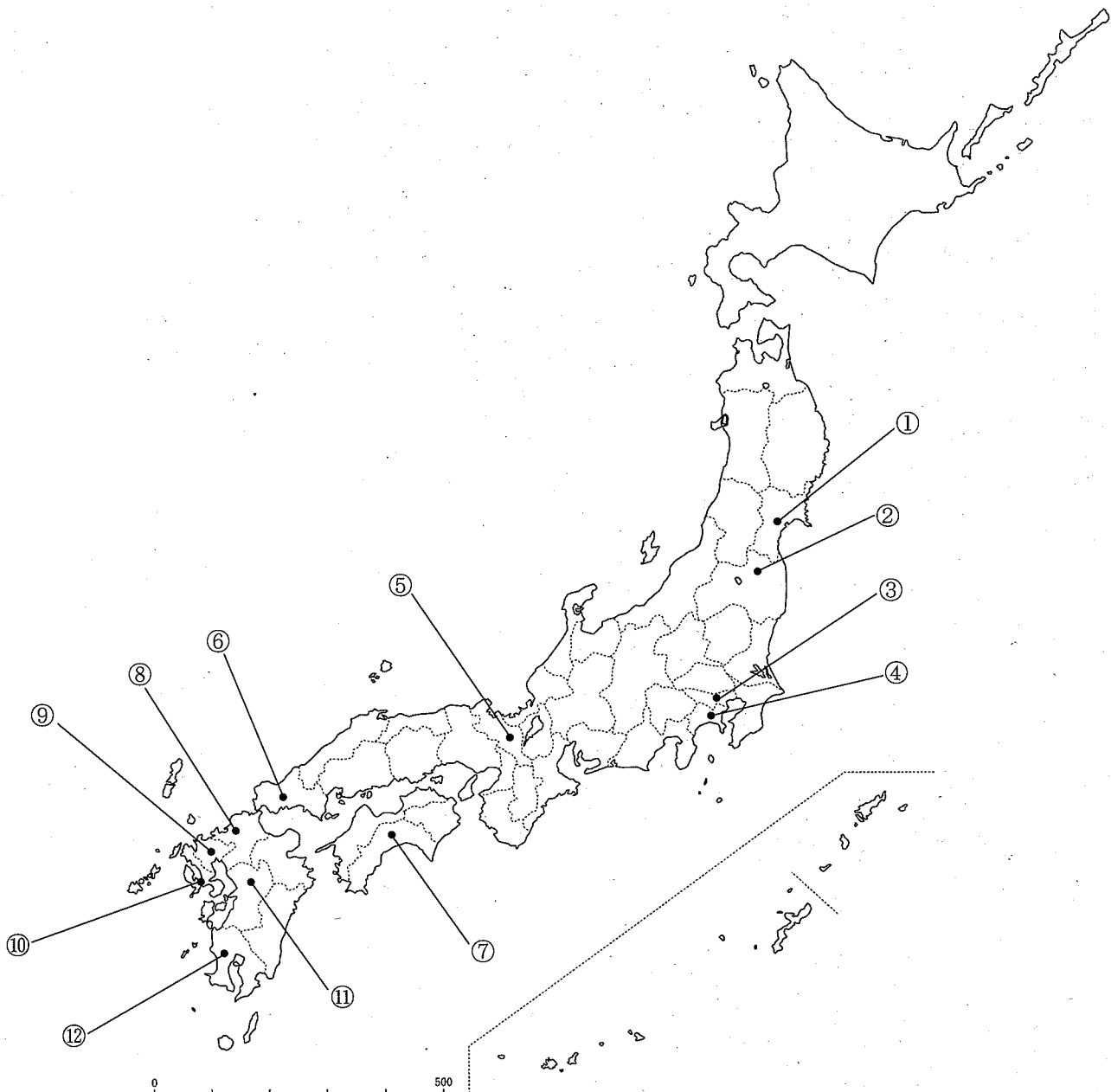
- ① 野中兼山 ② 藤原惺窩 ③ 林羅山 ④ 桂庵玄樹 ⑤ 木下順庵 用語 5 地図 6

(4) 前原一誠に率いられた不平士族の反乱事件で、政府軍によって鎮圧された。

- ① 西南の役 ② 佐賀の乱 ③ 秋月の乱 ④ 萩の乱 ⑤ 神風連の乱 用語 7 地図 8

(5) 1949年に起きた旧国鉄の列車脱線転覆事件で、小説家広津和郎らの広範な支援で被告全員が無罪となった。

- ① 下山事件 ② 砂川事件 ③ 三鷹事件 ④ 横浜事件 ⑤ 松川事件 用語 9 地図 10



2 次の設問(1)~(5)を読んで、正解をそれぞれの語群①~⑤から1つ選んで、解答欄にマークしなさい。(各3点×5=15点)

(1) 平安時代の代表的な能筆家である三蹟のひとりで、日記『権記』の作者でもある人物は誰か。

- ① 小野篁 ② 紀貫之 ③ 藤原基経 ④ 三善清行 ⑤ 藤原行成

11

(2) 宋末の混乱を避けて来日した臨済僧で、鎌倉五山のひとつ円覚寺の開山となった人物は誰か。

- ① 無学祖元 ② 一山一寧 ③ 虎関師錬 ④ 夢窓疎石 ⑤ 蘭溪道隆

12

(3) 室町時代中期ごろ、禅の影響を受けて日本独自の茶道である侘び茶を創始した人物は誰か。

- ① 織田有楽 ② 小堀遠州 ③ 村田珠光 ④ 古田織部 ⑤ 今井宗久

13

(4) 江戸時代中期の浮世絵師で、多色刷りの錦絵の画法を完成させた人物は誰か。

- ① 歌川豊国 ② 鈴木春信 ③ 菱川師宣 ④ 喜多川歌麿 ⑤ 鳥居清信

14

(5) 自由民権運動の理論的指導者のひとりで、『民約訳解』を出版して国民の抵抗権を主張した人物は誰か。

- ① 森有礼 ② 中村正直 ③ 福沢諭吉 ④ 中江兆民 ⑤ 西周

15

3 次の設問(1)~(5)を読んで、正解をそれぞれの語群①~⑤から1つ選んで、解答欄にマークしなさい。(各3点×5=15点)

(1) 最澄の著作で、大乘戒壇設立の必要性を説いた書物を何というか。

- ① 『三経義疏』 ② 『三教指帰』 ③ 『文鏡秘府論』 ④ 『顕戒論』 ⑤ 『十住心論』

16

(2) 源実朝の著作で、万葉調の清新な歌風を特徴とする歌集を何というか。

- ① 『経国集』 ② 『性霊集』 ③ 『山家集』 ④ 『凌雲集』 ⑤ 『金槐和歌集』

17

(3) 北畠親房の著作で、南朝の正統性と皇位継承のあり方などを説いた書物を何というか。

- ① 『梅松論』 ② 『神皇正統記』 ③ 『樵談治要』 ④ 『禁秘抄』 ⑤ 『難太平記』

18

(4) 近松門左衛門の著作で、歴史上の出来事に題材をとった人形浄瑠璃(文楽)の脚本を何というか。

- ① 『国性爺合戦』 ② 『仮名手本忠臣蔵』 ③ 『菅原伝授手習鑑』 ④ 『義経千本桜』

- ⑤ 『東海道四谷怪談』

19

(5) 石川啄木の著作で、三行分けの散文的スタイルで知られる歌集を何というか。

- ① 『邪宗門』 ② 『智恵子抄』 ③ 『一握の砂』 ④ 『赤光』 ⑤ 『みだれ髪』

20

4 次の設問(1)~(5)を読んで、正解をそれぞれの語群①~⑤から1つ選んで、解答欄にマークしなさい。(各3点×5=15点)

(1) 平安時代の政変と排斥された人物の組み合わせで誤っているものはどれか。

- ① 承和の変・橘逸勢 ② 安和の変・源高明 ③ 阿衡の紛議・橘広相 ④ 応天門の変・菅原道真
⑤ 平城太上天皇の変・藤原葉子

21

(2) 鎌倉時代の政変と排斥された人物の組み合わせで誤っているものはどれか。

- ① 和田合戦・和田義盛 ② 宝治合戦・梶原景時 ③ 平禅門の乱・平頼綱 ④ 二月騒動・北条時輔
⑤ 霜月騒動・安達泰盛

22

(3) 室町時代の政変と排斥された人物の組み合わせで誤っているのはどれか。

- ① 永享の乱・上杉氏憲 ② 明德の乱・山名氏清 ③ 応永の乱・大内義弘 ④ 嘉吉の乱・赤松満祐
⑤ 観応の擾乱・足利直義

23

(4) 江戸時代の藩名と藩校の組み合わせで誤っているものはどれか。

- ① 薩摩藩・造士館 ② 会津藩・日新館 ③ 長州藩・時習館 ④ 米沢藩・興讓館
⑤ 岡山藩・花鳥教場

24

(5) 近代の条約とその首席全権の組み合わせで誤っているものはどれか。

- ① 下関条約・伊藤博文 ② ポーツマス条約・小村寿太郎 ③ ワシントン海軍軍縮条約・加藤友三郎
④ ロンドン海軍軍縮条約・若槻礼次郎 ⑤ 日ソ中立条約・近衛文麿

25

5 次の設問(1)~(5)を読んで、正解をそれぞれ下の語群①~⑤から1つ選び、解答欄にマークしなさい。(各3点×5=15点)

(1) 江戸幕府の経済基盤のひとつとなった直轄領を何というか。

- ① 天領 ② 蔵入地 ③ 知行国 ④ 御料所 ⑤ 関東御領

26

(2) 1871年に不平等条約改正の予備交渉と欧米視察のために派遣された使節団に加わらなかった人物は誰か。

- ① 木戸孝允 ② 伊藤博文 ③ 西郷隆盛 ④ 岩倉具視 ⑤ 大久保利通

27

(3) 36人の会合衆とよばれる豪商たちが自治をおこなっていた堺を「東洋のベニス」と書き送った宣教師は誰か。

- ① アレッサンドロ・ヴァリニャーノ ② オルガンティーノ ③ フランシスコ・ザビエル
④ マテオ・リッチ ⑤ ガスパル・ヴィレラ

28

(4) 朝幕関係の円滑化などを目的として、文久の改革によって京都に設置された江戸幕府の役職を何というか。

- ① 六波羅探題 ② 政事総裁職 ③ 京都所司代 ④ 京都守護職 ⑤ 京都奉行

29

(5) 「歌よみに与ふる書」を出版して、短歌の革新運動に乗り出したのは誰か。

- ① 坪内逍遙 ② 正岡子規 ③ 尾崎紅葉 ④ 二葉亭四迷 ⑤ 樋口一葉

30

6 次の写真(1)~(5)の美術品・建築物の名称をそれぞれ下の語群①~⑤から1つ選び、(1)~(4)はそれにもっとも関係の深い人物、(5)はその所在地をそれぞれ下の語群⑥~⑩から1つ選んで、解答欄にマークしなさい。(各2点×10=20点)


(1)



(2)




(3)



(4)



(5)



(1)

- | | | | | | | |
|--------|---------|---------|----------|----------|------|----|
| ① 飛鳥大仏 | ② 執金剛神像 | ③ 興福寺仏頭 | ④ 僧形八幡神像 | ⑤ 日光菩薩像 | 美術品名 | 31 |
| ⑥ 中臣鎌足 | ⑦ 山背大兄王 | ⑧ 藤原光明子 | ⑨ 鞍作鳥 | ⑩ 蘇我石川麻呂 | 人物名 | 32 |

(2)

- | | | | | | | |
|---------|---------|---------|---------|---------|------|----|
| ① 鷹見泉石像 | ② 平田篤胤像 | ③ 田沼意次像 | ④ 伊能忠敬像 | ⑤ 佐藤一斎像 | 美術品名 | 33 |
| ⑥ 英一蝶 | ⑦ 渡辺崋山 | ⑧ 尾形光琳 | ⑨ 司馬江漢 | ⑩ 匝欧堂田善 | 人物名 | 34 |

(3)

- | | | | | | | |
|--------|--------|---------|---------|--------|------|----|
| ① 鳥獸戯画 | ② 山水長巻 | ③ 四季花鳥図 | ④ 寒山拾得図 | ⑤ 瓢鮎図 | 美術品名 | 35 |
| ⑥ 雪舟 | ⑦ 狩野元信 | ⑧ 明兆 | ⑨ 如拙 | ⑩ 鳥羽僧正 | 人物名 | 36 |

(4)

- | | | | | | | |
|-----------|---------|----------|-----------|----------|------|----|
| ① 京都御所常御殿 | ② 修学院離宮 | ③ 醍醐寺三宝院 | ④ 西本願寺飛雲閣 | ⑤ 慈照寺東求堂 | 建築物名 | 37 |
| ⑥ 豊臣秀吉 | ⑦ 光厳天皇 | ⑧ 足利義政 | ⑨ 徳川家康 | ⑩ 後水尾天皇 | 人物名 | 38 |

(5)

- | | | | | | | |
|--------|---------|----------|--------|----------|------|----|
| ① 石上神宮 | ② 上賀茂神社 | ③ 隅田八幡神社 | ④ 巖島神社 | ⑤ 宇佐八幡神宮 | 建築物名 | 39 |
| ⑥ 和歌山県 | ⑦ 広島県 | ⑧ 京都府 | ⑨ 奈良県 | ⑩ 大分県 | 所在地名 | 40 |