

日本地理—1 (解答番号 1 ~ 10) 平成 25 年度

各問題に対する解答は配付したマークシートの解答欄にマークすること。例えば 20 と表示のある問題に対して⑤と解答する場合は、解答番号 20 の解答欄の⑤にマークすること。

1 日本の地形に関する次の文章を読んで、各問いに答えなさい。(各 2 点×10=20 点)

日本は、周囲を太平洋、東シナ海、(1)、オホーツク海に囲まれた弧状列島である。日本列島は太平洋プレート、(2)、北アメリカプレート、ユーラシアプレートという 4 つのプレートが集まる世界のなかで地殻が最も不安定な地域の一つである。そのため、(3)地震、火山の噴火、(4)などの自然災害を受けやすい。プレートとプレートの境界には(5)やトラフという深さ 1,000m を超える細長い溝状の地形があり、その西側には火山が列状に連なっている。火山の中には(6)活火山も多い。

日本は山がちな国で、総面積の(7)を山地が占めている。日本列島は、新期造山帯の一つである(8)に位置しており、安定陸塊や古期造山帯と比べて山地の隆起する速度は大きい。また、年降水量が多く、短期間に集中する強い雨がみられるため、(9)河川によって運搬・排出される土砂の量は多くなり、山地は侵食される。しかも、日本の国土が狭く山がちなため、(10)河川の勾配は急である。

問 1 (1)に入る海洋の名称として、最も適当なものはどれか、次の①～④から選びなさい。

- ① 黄海 ② インド洋 ③ 日本海 ④ 北海 1

問 2 (2)に入るプレートの名称として、最も適当なものはどれか、次の①～④から選びなさい。

- ① フィリピン海プレート ② インド・オーストラリアプレート ③ 黄海プレート
④ オホーツク海プレート 2

問 3 下線(3)に関連して、プレートの境界で起こった地震として、最も適当なものはどれか、次の①～④から選びなさい。

- ① 鳥取県西部地震(2000年) ② 能登半島地震(2007年) ③ 新潟県中越地震(2004年)
④ 東北地方太平洋沖地震(2011年) 3

問 4 (4)に入る自然災害として、最も適当なものはどれか、次の①～④から選びなさい。

- ① 台風 ② 地すべり ③ 洪水 ④ 高潮 4

問 5 (5)に入る語句として、最も適当なものはどれか、次の①～④から選びなさい。

- ① 海溝 ② 大陸棚 ③ V字谷 ④ U字谷 5

問 6 下線(6)に関連して、活火山として最も適当なものはどれか、次の①～④から選びなさい。

- ① 高尾山(東京都) ② 伊吹山(滋賀県・岐阜県) ③ 三瓶山(島根県) ④ 石槌山(愛媛県) 6

問 7 (7)に入る割合として、最も適当な数字はどれか、次の①～④から選びなさい。

- ① 約 10% ② 約 25% ③ 約 50% ④ 約 75% 7

問 8 (8)に入る語句として、最も適当なものはどれか、次の①～④から選びなさい。

- ① 環太平洋造山帯 ② アルプス・ヒマラヤ造山帯 ③ シベリア楕状地 ④ フォッサマグナ 8


問 9 下線(9)に関連して、河川がつくる地形として、最も適当でないものはどれか、次の①～④から選びなさい。

- ① 谷底平野 ② 河岸段丘 ③ 自然堤防 ④ 裾礫 9

問 10 下線(10)に関連して、次の①～④のうち河川の勾配が最も急なものはどれか。

- ① 常願寺川 ② 淀川 ③ 北上川 ④ 石狩川 10

2 a) から c) の写真とそれぞれに対応するガイドの説明文を参照しながら、各問いに答えなさい。(各 3 点×10=30 点)



a) ① 第2次世界大戦末に投下された原子爆弾によって破壊されたこの建物は、② 太田川の右岸に位置し、原爆ドームとして世界的に知られ、③ 世界遺産の一つとして、対岸の④ 平和記念公園とともに戦争の悲惨さを今に伝えています。

問 1 原爆ドームが位置する県として、最も適当なものはどれか、次の①～④から選びなさい。

- ① 兵庫県 ② 広島県 ③ 福岡県 ④ 長崎県

11

問 2 原爆ドームとともにこの県で世界文化遺産の登録を受けている施設はどれか、次の①～④から選びなさい。

- ① 姫路城 ② 大宰府天満宮 ③ グラバー園 ④ 厳島神社

12


問 3 原爆ドームに関するガイドの説明の中で、間違った説明が一つある。それはどれか、説明文の①～④から選びなさい。

13

問 4 この写真の都市で味わう「ご当地グルメ」として、最も適当なものはどれか、次の①～④から選びなさい。

- ① お好み焼き ② たこ焼き ③ ちゃんぽん ④ 明太子

14



b) ここは大涌谷という場所で、① 火山の噴煙や硫黄を見ることができるようになっています。このように、火山活動が実際に見られることから② エコパークにも指定されています。また、③ 地熱と温泉を利用した「ゆで卵」は硫黄と鉄分が反応して卵の表面に黒くなって付着し、延命の④ 黒たまごとして名物になっています。

問 5 大涌谷が位置する県として、最も適当なものはどれか、次の①～④から選びなさい。

- ① 静岡県 ② 山梨県 ③ 長野県 ④ 神奈川県

15


問 6 大涌谷に関するガイドの説明の中で、間違った説明が一つある。それはどれか、説明文の①～④から選びなさい。

16

問 7 大涌谷の近くに位置する火山性の湖として、最も適当なものはどれか、次の①～④から選びなさい。

- ① 中禅寺湖 ② 河口湖 ③ 芦ノ湖 ④ 白樺湖

17



c) 酒田市の山居倉庫は、河川の河口に立地して① 舟運の拠点となり、② 海産物の倉庫としての役割を果たしてきました。③ 土蔵づくりや二重構造の屋根、あるいは建物の西側に植栽された④ 日よけや風よけのケヤキの樹木など、倉庫を低温管理をするための工夫が随所に施されています。

問 8 山居倉庫が立地する県として、最も適当なものはどれか、次の①～④から選びなさい。

- ① 秋田県 ② 山形県 ③ 新潟県 ④ 富山県

18

問 9 山居倉庫に関するガイドの説明の中で、間違った説明が一つある。それはどれか、説明文の①～④から選びなさい。

19

問 10 山居倉庫が立地する河口の河川名として、最も適当なものはどれか、次の①～④から選びなさい。

- ① 雄物川 ② 信濃川 ③ 神通川 ④ 最上川

20

3 日本の都市と農村の諸問題に関する次の文章を読んで、各問いに答えなさい。 (各 2 点×10=20 点)

日本の都市と農村は、いつの時代にも変革にさらされてきた。とりわけ第2次世界大戦後の変化は激しいもので、(2)には農山村から(1)大都市への人口移動が著しかった。この移動は、(4)都市部を中心とする経済復興と産業の高度化に伴って人手不足が顕著となり、農村から都市への人口移動が急速に広まったためであった。1950年から1975年の間に東京大都市圏と大阪大都市圏、および(5)大都市圏の社会増加は、1,100万人にのぼった。そのため、(6)農山村からの労働力の流出などによって過疎地域が生じ、出稼ぎ問題や(7)といった過疎問題がおきた。これに対して、農山村では土地改良事業や農作業の機械化とともに、(8)工場の誘致や道路建設、(9)過疎地域の振興対策などが進められた。一方、大都市では人口増加に社会資本の投入が追いつかず、(10)環境汚染や公害、地価の高騰、住宅難、交通の混雑といったさまざまな過密問題がおこった。そのため都市では、地方への工場分散や都市計画の実施などによって、課題を克服する努力が続けられた。

- 問1 下線(1)に関連して、城下町から発展した都市として、最も適当なものはどれか、次の①～④から選びなさい。
 ① 札幌市 ② 新潟市 ③ 浜松市 ④ 神戸市 21
- 問2 (2)に入る語句として、最も適当なものはどれか、次の①～④から選びなさい。
 ① 高度経済成長期 ② 経済低成長期 ③ バブル経済期 ④ バブル経済崩壊期 22
- 問3 下線(3)の現象によってもたらされた大都市の性格として、最も適当なものはどれか、次の①～④から選びなさい。
 ① 少子化 ② 一極集中化 ③ 空洞化 ④ 多就業化 23
- 問4 下線(4)に関連して、都市とそれを代表する産業の組み合わせとして、適当でないものはどれか、次の①～④から選びなさい。
 ① 豊田市—自動車工業 ② 川口市—鑄物工業 ③ 堺市—製鉄業 ④ 北九州市—醸造業 24
- 問5 (5)に入る大都市圏として、適当なものはどれか、次の①～④から選びなさい。
 ① 札幌 ② 横浜 ③ 名古屋 ④ 広島 25
- 問6 下線(6)に関連して、関東地方の過疎市町村として、適当でないものはどれか、次の①～④から選びなさい。
 ① 群馬県嬬恋村 ② 茨城県大子町 ③ 栃木県那須町 ④ 東京都奥多摩町 26
- 問7 (7)に入る過疎問題として、適当でないのはどれか、次の①～④から選びなさい。
 ① 離農離村 ② 治安の悪化 ③ 限界集落化 ④ 人口の高齢化 27
- 問8 下線(8)に関連して、農山村に立地した工業の組み合わせで、最も適当なものはどれか、次の①～④から選びなさい。
 ① 諏訪市—精密機械 ② 鯖江市—織物 ③ 大和郡山市—食品 ④ 米沢市—陶磁器 28
- 問9 下線(9)に関連して、過疎地域の地域振興策として、適当でないものはどれか、次の①～④から選びなさい。
 ① 生産調整政策 ② 地産地消運動 ③ 一村一品運動 ④ 観光拠点づくり 29
- 問10 下線(10)に関連して、過密問題を解消するために大都市の近郊にニュータウンが建設された。ニュータウンと場所の組み合わせとして、適当でないものはどれか、次の①～④から選びなさい。
 ① 多摩ニュータウン—東京大都市圏 ② 高蔵寺ニュータウン—名古屋大都市圏
 ③ 千里ニュータウン—大阪大都市圏 ④ 港北ニュータウン—北九州大都市圏 30

4 国土地理院発行 2 万 5,000 分の 1 地形図「石和」(平成 18 年発行 1.5 倍に拡大)を見ながら、各問いに答えなさい。

(各 3 点×10=30 点)



問 1 地図の中央に位置する勝沼町藤井の南に広がる地形として、最も適当なものはどれか、次の①～④から選びなさい。
 ① 河岸段丘 ② 扇状地 ③ 火山斜面 ④ 自然堤防 31

問 2 勝沼町藤井の地形上に広がる土地利用として、最も適当と考えられるものはどれか、次の①～④から選びなさい。
 ① リンゴ園 ② ミカン園 ③ 梨園 ④ ブドウ園 32

問 3 勝沼町藤井を通る自動車道路の名称として、最も適当なものはどれか、次の①～④から選びなさい。
 ① 常磐自動車道 ② 北関東自動車道 ③ 中央自動車道 ④ 関越自動車道 33

問 4 高速道路の釈迦堂 P.A (パーキングエリア) の東に隣接した施設として、最も適当なものはどれか、次の①～④から選びなさい。
 ① 老人ホーム ② 図書館 ③ 病院 ④ 博物館 34

問 5 釈迦堂 P.A の位置から富士山の方角として、最も適当なものはどれか、次の①～④から選びなさい。
 ① 東 ② 西 ③ 南 ④ 北 35

問 6 釈迦堂 P.A から勝沼町下岩崎の小学校まで散策した。散策距離として、最も適当なものはどれか、次の①～④から選びなさい。なお、上の図は、2 万 5,000 分の 1 地形図を 1.5 倍に拡大しています。
 ① 約 2km ② 約 4km ③ 約 6km ④ 約 8km 36

問 7 釈迦堂 P.A と勝沼町下岩崎との比高として、最も適当なものはどれか、次の①～④から選びなさい。
 ① 約 20m ② 約 80m ③ 約 140m ④ 約 200m 37

問 8 勝沼町下岩崎における地図記号卍が示すものとして、最も適当なものはどれか、次の①～④から選びなさい。
 ① 裁判所 ② 警察署 ③ 神社 ④ 寺院 38

問 9 勝沼町下岩崎を通る道路は江戸時代の旧街道である。その名称として、最も適当なものはどれか、次の①～④から選びなさい。
 ① 北国街道 ② 中山道 ③ 甲州街道 ④ 三国街道 39

問 10 勝沼町下岩崎の集落形態として、最も適当なものはどれか、次の①～④から選びなさい。
 ① 街村 ② 散村 ③ 塊村 ④ 円村 40