

受験地	受験番号	氏名

各問題に対する解答は配布したマークシートの解答欄にマークすること。

例えば と表示のある問題に対して⑤と解答する場合は、解答番号 の解答欄の⑤にマークすること。

1 次の文章(1)~(5)を読んで、それぞれの正解を語群から1つ選び、それらが所在する都道府県名を地図上の番号①~⑩から1つ選んで、解答欄にマークしなさい。(各2点×10=20点)

(1) 5世紀後半頃の古墳で、地方豪族が武人として大王の政治を支えたことなどが刻まれた鉄剣が出土した。

- ① 江田船山古墳 ② 稲荷台1号墳 ③ 岡田山1号墳

- ④ 大仙陵古墳 ⑤ 稲荷山古墳 用語 地図

(2) オランダ商館の医師シーボルトが開いた私塾で、高野長英・伊東玄朴らのすぐれた医者を輩出した。

- ① 鳴滝塾 ② 咸宜園 ③ 松下村塾 ④ 古義堂 ⑤ 適塾 用語 地図

(3) 鎌倉時代に道元が開いた寺院で、総持寺とともに曹洞宗の本山とされる。

- ① 久遠寺 ② 永平寺 ③ 円覚寺 ④ 建仁寺 ⑤ 建長寺 用語 地図

(4) 大戦景気とシベリア出兵による物価急騰に怒った漁師の女房たちの一揆が全国に拡大し、寺内内閣が退陣に追い込まれた。

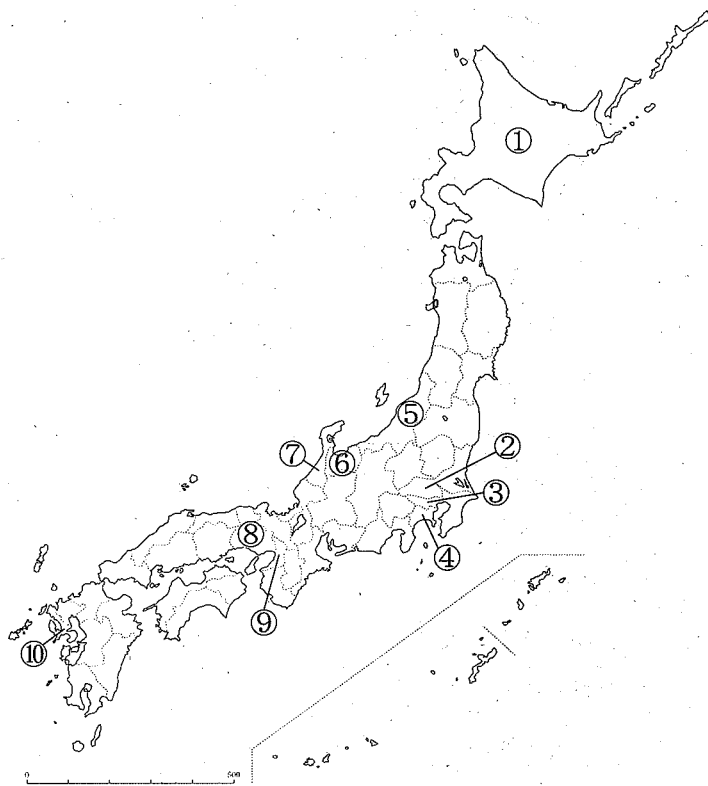
- ① 日比谷焼打ち事件 ② 血税一揆 ③ 米騒動

- ④ 秩父事件 ⑤ 村方騒動 用語 地図

(5) 1858年に調印された日米修好通商条約によって開港した港のうち、大政奉還までの貿易累計額がもっとも多かった。

- ① 長崎 ② 横浜 ③ 箱館

- ④ 新潟 ⑤ 神戸 用語 地図



(裏面に続く)

2 次の設問(1)~(5)を読んで、それぞれの正解を語群から1つ選び、解答欄にマークしなさい。(各3点×5=15点)

- (1) 江戸時代中期の朱子学者で、対馬藩に仕えて対朝鮮外交に尽力したのは誰か。
 ① 雨森芳洲 ② 木下順庵 ③ 山崎闇斎 ④ 野中兼山 ⑤ 新井白石
- (2) 1911年に青鞥社を創立して婦人運動を始め、「元始、女性は太陽であった」と書いたのは誰か。
 ① 市川房枝 ② 与謝野晶子 ③ 山川菊栄 ④ 平塚らいてう ⑤ 高群逸枝
- (3) キリシタン大名の元摂津高槻城主で、のち禁教令によりマニラへ追放されたのは誰か。
 ① 高山右近 ② 大友宗麟 ③ 大村純忠 ④ 小西行長 ⑤ 有馬晴信
- (4) 江戸時代前期の芸術家で、上絵付の技法により赤絵磁器を完成させたのは誰か。
 ① 本阿弥光悦 ② 酒井田柿右衛門 ③ 尾形乾山
 ④ 野々村仁清 ⑤ 俵屋宗達
- (5) 元・高麗が2度にわたって対馬や博多湾岸などを急襲したとき、石塁を築くなどして防いだ鎌倉幕府執権は誰か。
 ① 北条時頼 ② 北条義時 ③ 北条時宗 ④ 北条泰時 ⑤ 北条高時

3 次の設問(1)~(5)を読んで、それぞれの正解を語群から1つ選び、解答欄にマークしなさい。(各3点×5=15点)

- (1) 中国に渡った円仁が、仏教修行や巡礼について記した旅行記を何というか。
 ① 『参天台五台山記』 ② 『入唐行歴抄』 ③ 『入唐求法巡礼行記』
 ④ 『日本霊異記』 ⑤ 『渡宋記』
- (2) 鎌倉時代前期までの歴史を、天台座主の慈円が「道理」によって説明した書物を何というか。
 ① 『吾妻鏡』 ② 『大鏡』 ③ 『源平盛衰記』 ④ 『愚管抄』 ⑤ 『釈日本紀』
- (3) ロシア船の南下に対して、林子平が海防の必要性を説いた書物を何というか。
 ① 『北槎聞略』 ② 『慎機論』 ③ 『戊戌夢物語』
 ④ 『赤蝦夷風説考』 ⑤ 『海国兵談』
- (4) 江戸時代後期の俳人である小林一茶の代表的俳句集を何というか。
 ① 『若菜集』 ② 『おらが春』 ③ 『笈の小文』 ④ 『奥の細道』 ⑤ 『蕪村句集』
- (5) 1910年に創刊され、楽天的な人道主義・理想主義を標榜した文芸雑誌を何というか。
 ① 『文藝春秋』 ② 『改造』 ③ 『赤い鳥』 ④ 『新思潮』 ⑤ 『白樺』

4 次の設問(1)~(5)を読んで、それぞれの正解を語群から1つ選び、解答欄にマークしなさい。(各3点×5=15点)

- (1) 聖武天皇のときの政策として正しいものはどれか。
 ① 平城京遷都 ② 国分寺建立 ③ 風土記編纂 ④ 庚午年籍作成 ⑤ 養老律令制定
- (2) 室町将軍を補佐して政務を統轄した管領である守護大名はどれか。
 ① 斯波氏 ② 赤松氏 ③ 京極氏 ④ 一色氏 ⑤ 山名氏
- (3) 徳川綱吉のときの政策として正しいものはどれか。
 ① 上知令 ② 鎖国令 ③ 生類憐みの令 ④ 相对済し令 ⑤ 異国船打払令
- (4) 明治時代の教育者とその人物が創立した教育機関(現在の校名)の組み合わせで誤っているものはどれか。
 ① 大隈重信・早稲田大学 ② 津田梅子・東洋英和女学院大学 ③ 福沢諭吉・慶応義塾大学
 ④ 新島襄・同志社大学 ⑤ 山田顕義・日本大学
- (5) GHQによる「五大改革指令」について誤っているものはどれか。
 ① 労働組合結成の促進 ② 自由主義教育の実施 ③ 経済機構の民主化
 ④ 普通選挙の実施 ⑤ 圧政的諸制度の撤廃

(次頁に続く)

5 次の設問(1)~(5)を読んで、それぞれの正解を語群から1つ選び、解答欄にマークしなさい。(各3点×5=15点)

(1) 洪武帝から「日本国王」に任命され、倭寇の取り締まりを要求された征西府の将軍はだれか。

- ① 北条時行 ② 足利直冬 ③ 北畠顕家 ④ 今川了俊 ⑤ 懐良親王

26

(2) 戦国大名とその城下町の組み合わせで誤っているものはどれか。

- ① 朝倉義景・越前一乗谷 ② 上杉謙信・越後春日山 ③ 浅井長政・近江安土
④ 北条氏康・相模小田原 ⑤ 武田信玄・甲斐府中

27

(3) 江戸時代の「五街道」に含まれない街道はどれか。

- ① 中山道 ② 東山道 ③ 東海道 ④ 日光道中 ⑤ 甲州道中

28

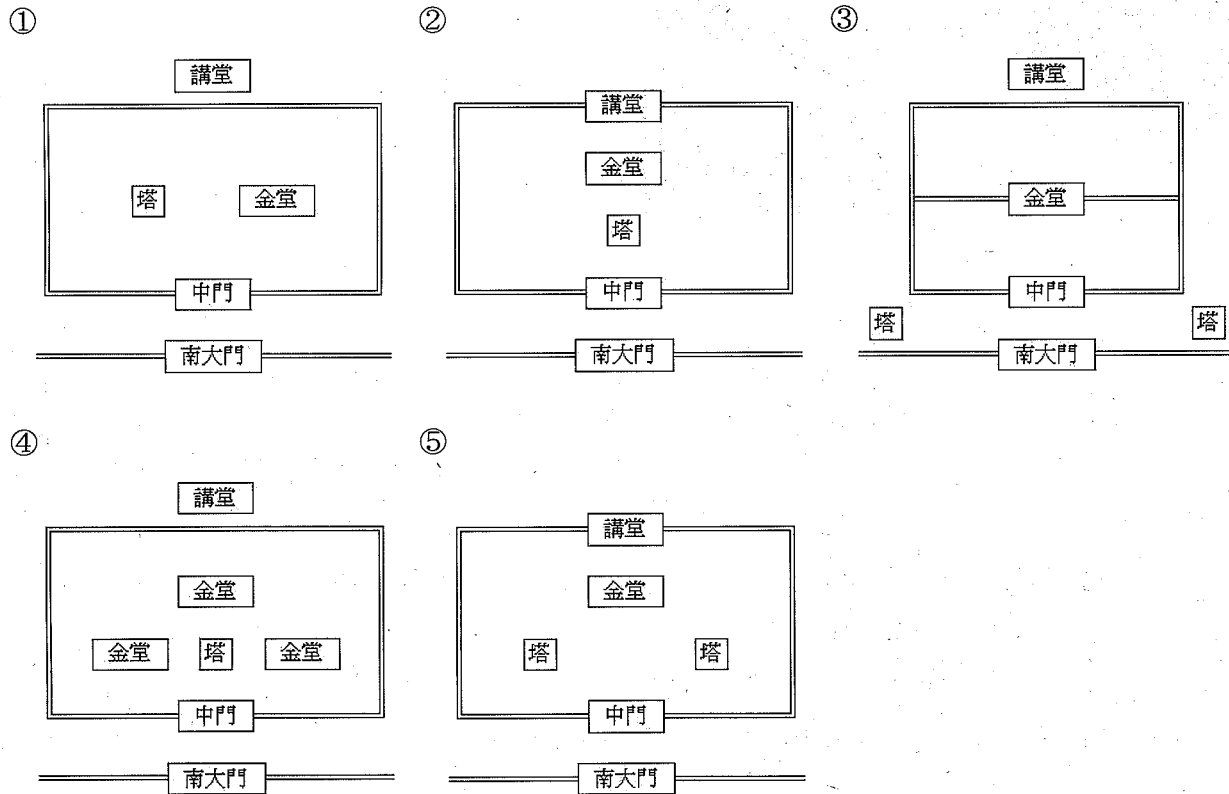
(4) 「統帥権干犯問題」を引き起こし、浜口雄幸首相が狙撃される要因となった海軍軍縮会議が開かれた場所はどれか。

- ① ジュネーヴ ② ヴェルサイユ ③ ベルリン ④ ロンドン ⑤ ワシントン

29




(5) 以下の伽藍配置のうち、いわゆる「薬師寺式」はどれか。

30



(裏面に続く)

6 次の写真(1)~(5)の美術品・建築物の名称を語群①~⑤から1つ選び、(1)~(4)はそれにもっとも関係の深い人物、(5)はその所在地を語群⑥~⑩から1つ選んで、解答欄にマークしなさい。(各2点×10=20点)



(1) ① 救世観音像

④ 夢違観音像

⑥ 蘇我馬子 ⑦ 秦河勝

(2) ① 富嶽三十六景

④ 木曾街道六十九次

⑥ 葛飾北斎 ⑦ 喜多川歌麿

(3) ① 麗子像

④ 湖畔

⑥ 藤島武二 ⑦ 岸田劉生

(4) ① 西本願寺飛雲閣

④ 日光東照宮

⑥ 足利義政 ⑦ 後水尾天皇

(5) ① 平等院鳳凰堂

④ 富貴寺大堂

⑥ 大分県 ⑦ 鳥取県

② 百済観音像

⑤ 不空羂索観音像

⑧ 聖武天皇 ⑨ 中大兄皇子

② 金沢八景

⑤ 東都名所

⑧ 歌川豊国 ⑨ 安藤広重

② あやめの衣

⑤ わだつみのいろこの宮

⑧ 黒田清輝 ⑨ 岡田三郎助

② 慈照寺銀閣

⑤ 修学院離宮

⑧ 豊臣秀吉 ⑨ 徳川家康

② 中尊寺金色堂

⑤ 三仏寺投入堂

⑧ 岩手県 ⑨ 京都府

③ 聖観音像

⑩ 厩戸皇子

③ 東海道五十三次

⑩ 鈴木春信

③ 池畔納涼

⑩ 青木繁

③ 桂離宮

⑩ 智仁親王

③ 白水阿弥陀堂

⑩ 福島県

美術品名

人物名

美術品名

人物名

美術品名

人物名

美術品名

人物名

美術品名

所在地名