

2022 年度全国通訳案内士試験

試験問題

日本歴史

本文 6 ページ

各問題に対する解答はマークシートの解答欄にマークすること。例えば と表示のある問題に対して④と解答する場合は、マークシート の解答欄の④にマークすること。

- (1) 中臣鎌足と共に乙巳の変で蘇我氏を滅ぼし、668 年天皇に正式に即位して、庚午年籍作成など、律令体制成立期の諸政策を断行した人物は誰か。正しいものを次の①～④から選びなさい。(3 点)

① 桓武天皇 ② 持統天皇 ③ 推古天皇 ④ 天智天皇

- (2) 奈良時代の歌人で、貧窮問答歌の作者。702 年遣唐使の一員として入唐。帰国後、筑前守赴任中に大宰帥の相伴旅人と親交があり、多くの作品を生んだ人物は誰か。正しいものを次の①～④から選びなさい。(3 点)

① 犬上御田歊 ② 柿本人麻呂 ③ 山上憶良 ④ 山部赤人

- (3) 奈良に都が置かれたのは のことで、古都奈良の文化財は、中国、朝鮮からの文化的な影響を受け、日本建築や日本美術の発展に重要な影響を与えることとなった。特に皇室宮殿の配置と現存文化財の設計は、唐の長安の建築群と都市設計の特徴をよく模している。世界遺産「古都奈良の文化財」に登録されているのは、正倉院のある などの寺社がほとんどである。その中で、 については、建築物のみならず、神域とされる山中の原始林も登録の対象となっている。

空欄 a～c に入る組み合わせとして正しいものを、次の①～④から選びなさい。(4 点)

① a 708 年 b 唐招提寺 c 橿原神宮
 ② a 710 年 b 東大寺 c 春日大社
 ③ a 784 年 b 法隆寺 c 談山神社
 ④ a 794 年 b 薬師寺 c 大神神社

- (4) 奈良県天理市にある石上神宮は、物部氏の氏神として古くから崇敬されてきた神社である。ここに伝来する は、百済から贈られたものといわれ国宝に指定されている。物部氏の一族から石上氏が出て、石上宅嗣は大納言に昇っている。詩文にも秀でていた石上宅嗣は、その集めた漢籍のために文庫を造り、その という文庫は、日本で最初の図書館ともいわれている。

問1 空欄 a に入る語句として正しいものを、次の①～④から選びなさい。(4 点)

① 七支刀 ② 神獸鏡 ③ 須恵器 ④ 銅鐸

問2 空欄 b に入る語句として正しいものを、次の①～④から選びなさい。(4 点)

① 芸亭 ② 金沢文庫 ③ 国学 ④ 綜芸種智院

(5) 最澄と空海に関する説明として正しいものを、次の①~④から選びなさい。 (4点)

- ① 最澄の開いた天台宗は密教を積極的に摂取したが、空海の開いた真言宗は密教をまったく摂取しなかった。
- ② 二人は遣唐使の一行として唐に渡っている。しかし、空海と最澄とでは、唐に渡った年が大きく異なっている。
- ③ 最澄は小野道風・藤原行成と共に三蹟（三跡）の一人に、空海は藤原佐理・橘逸勢と共に三筆の一人に数えられている。
- ④ 最澄の著述には『顕戒論』があり、空海には『三教指帰』がある。その内、『三教指帰』では、儒教・道教・仏教の優劣が論じられている。

(6) 1185 (元暦2 / 寿永4) 年に で行われた戦いは、源平最後の戦いとなった。源義経が率いる源氏軍に敗れた平氏軍では安徳天皇が入水し、平氏一門を率いていた平宗盛は捕虜となり、平氏は滅亡した。

空欄 a に入る場所として正しいものを、次の①~④から選びなさい。 (3点)

- ① 一の谷 ② 壇ノ浦 ③ 富士川 ④ 屋島

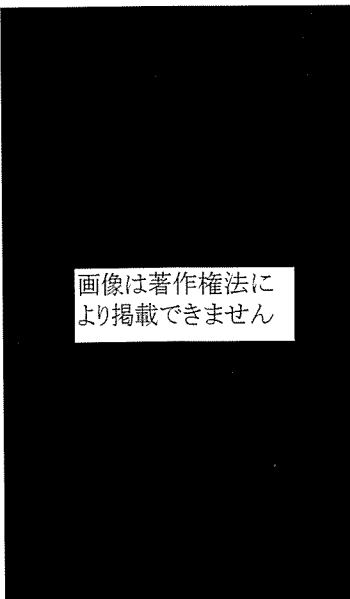
(7) 1221 (承久元) 年におこった承久の乱により、後鳥羽上皇をはじめとする三人の上皇は配流された。幕府方の圧倒的な勝利に終わった承久の乱後、鎌倉幕府の執権政治は強化されていった。1232 (貞永元) 年には最初の武家の法典である (ア)『御成敗式目』が制定されたことも、その現れである。

下線部 (ア) が制定された時の執権は誰か。正しいものを、次の①~④から選びなさい。 (3点)

- ① 北条時宗 ② 北条時頼 ③ 北条泰時 ④ 北条義時

(8) この仏像は、鎌倉時代の仏師である康勝の作品であり、京都の六波羅蜜寺に所蔵されている。この仏像は、人々に念仏を唱えることを勧め、市聖とも呼ばれた平安時代中期の人物を描いている。この人物は誰か。正しいものを次の①~④から選びなさい。 (4点)

- ① 一遍 ② 空也 ③ 源信 ④ 親鸞



- (9) 戦国時代には、商品経済の発展によって城下町だけではなく、門前町も繁栄した。門前町としては伊勢神宮の宇治・山田、信濃善光寺の長野、延暦寺の門前町で琵琶湖岸の重要な港町でもあった などが代表的である。この地は 1997 (平成 9) 年に、「重要伝統的建造物群保存地区」に選定されている。

空欄 a に入る場所として正しいものを、次の①～④から選びなさい。 (3 点)

- ① 坂本 ② 信楽 ③ 長浜 ④ 彦根

- (10) 武田信玄 (晴信) と上杉謙信 (長尾景虎) の両雄は、数回にわたり信濃において対戦した で知られている。年長の信玄は躑躅ヶ崎館 (つつじがさきやかた) を本拠に、信濃・駿河などへと勢力を拡大した。その一方、領国内の整備に努め、信玄が制定したといわれる は戦国大名の代表的な分国法の 1 つに数えられている。それに対して、謙信は難攻不落といわれた を居城としてから、没する直前まで各地を転戦した。その勢力範囲は、越後から越中・加賀・能登に及んだ。信玄は京都を目指し、その途中、1573 年 1 月 (元亀 3 年 12 月) に、 で徳川家康の軍勢と織田信長の援軍に圧勝した。しかし、その数か月後に信玄は亡くなっている。一方の謙信は、1578 (天正 6) 年に病没している。

問 1 空欄 a に入る語句として正しいものを、次の①～④から選びなさい。 (3 点)

- ① 姉川の戦い ② 桶狭間の戦い ③ 川中島の戦い ④ 長篠の戦い

問 2 空欄 b に入る語句として正しいものを、次の①～④から選びなさい。 (3 点)

- ① 甲州法度之次第 ② 塵芥集 ③ 新加制式 ④ 早雲寺殿廿一箇条

問 3 空欄 c に入る語句として正しいものを、次の①～④から選びなさい。 (3 点)

- ① 上田城 ② 春日山城 ③ 新発田城 ④ 松本城

問 4 空欄 d に入る語句として正しいものを、次の①～④から選びなさい。 (3 点)

- ① 小牧・長久手の戦い ② 関ヶ原の戦い ③ 三方ヶ原の戦い ④ 山崎の戦い

- (11) 秀吉は 1585 (天正 13) 年、朝廷から関白に任じられ、翌年には に任じられて、豊臣姓を与えられた。1588 年には京都に新築した に 天皇を迎えるなど、天皇の権威を利用しながら統一国家をつくりあげていった。

問 1 空欄 a に入る語句として正しいものを、次の①～④から選びなさい。 (3 点)

- ① 征夷大將軍 ② 太政大臣 ③ 摂政 ④ 執権

問 2 空欄 b に入る語句として正しいものを、次の①～④から選びなさい。 (3 点)

- ① 仁和寺 ② 二条城 ③ 伏見桃山城 ④ 聚楽第

問3 空欄cに入る人名として正しいものを、次の①～④から選びなさい。(3点)

- ① 後陽成 ② 後醍醐 ③ 後水尾 ④ 正親町

(12) 江戸時代の将軍とその在任中のできごとの組み合わせとして正しいものを、次の①～④から選びなさい。(4点)

- ① 徳川家康 — 禁教令を出しキリスト教を迫害
 ② 徳川秀忠 — オランダ商館を出島に移す
 ③ 徳川家光 — 日本人の海外渡航および帰国の禁止
 ④ 徳川家綱 — 島原の乱

(13) 江戸幕府は五街道などに関所を設け通行を監視した。特に(ア)東海道箱根関など関東の関所では江戸防衛のため(イ)「入鉄砲に出女」を厳しく取り締まった。

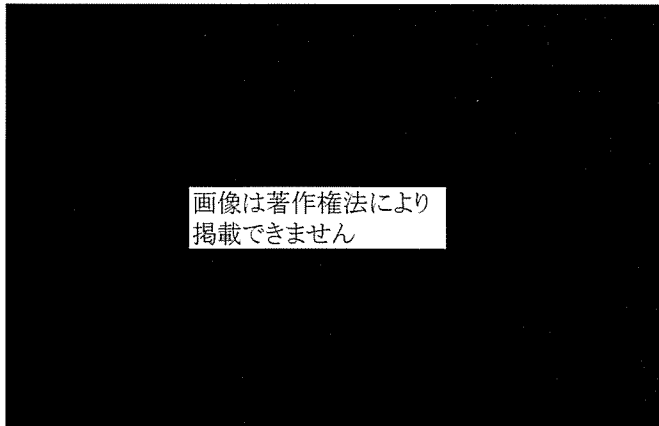
問1 下線部(ア)に関連して、江戸時代の東海道の各宿駅には荷物運送のために人馬が常備されていたが、その人数・疋数(頭数)として正しいものを、次の①～④から選びなさい。(3点)

- ① 10人・10疋 ② 25人・25疋 ③ 50人・50疋 ④ 100人・100疋

問2 下線部(イ)に関連して、取り締まりの対象になった「出女」とは、主にどの階層に属する女性であったか。正しいものを次の①～④から選びなさい。(4点)

- ① 寺社 ② 公家 ③ 旗本・御家人 ④ 大名

(14) この写真の建築物は京都市西京区にある である。この書院は、書院造に茶室をとり入れた江戸時代の を代表するものとして知られている。



問1 空欄aに入る語句として正しいものを、次の①～④から選びなさい。(4点)

- ① 銀閣寺 ② 西本願寺 ③ 桂離宮 ④ 平安神宮

問2 空欄bに入る語句として正しいものを、次の①～④から選びなさい。(3点)

- ① 数寄屋造 ② 権現造 ③ 入母屋造 ④ 寄棟造

(15) 明治新政府は を新設して、鉱山・製鉄・造船などの近代化、鉄道・電信などの導入を推進した。
 に、東京・横浜間に初めて電信線が架設され、(ア) 3 年後には鉄道が開業した。一方 1873
 (明治 6) 年に設置された は、製糸・紡績などの軽工業部門や農業・牧畜の指導、近代化を
 進めた。

問 1 空欄 a と c に入る語句の組み合わせとして正しいものを、次の①～④から選びなさい。(4 点)

- ① a 鉄道省 c 農商務省 ② a 鉄道省 c 内務省
 ③ a 工部省 c 農商務省 ④ a 工部省 c 内務省

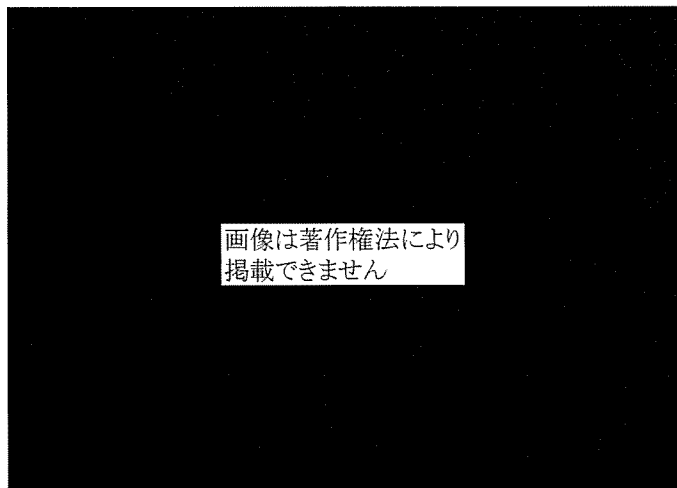
問 2 空欄 b に入る年号として正しいものを、次の①～④から選びなさい。(3 点)

- ① 1869 (明治 2) 年 ② 1874 (明治 7) 年 ③ 1879 (明治 12) 年 ④ 1884 (明治 17) 年

問 3 下線部 (ア) に関連して、この鉄道建設を指導したお雇い外国人の出身地として正しいものを、
 次の①～④から選びなさい。(3 点)

- ① アメリカ ② イギリス ③ フランス ④ ドイツ

(16) この作品は、 (1891～1929) が愛娘をモデルに描いた連作の一枚 で、国の重要文
 化財に指定されている。



問 1 空欄 a に入る作家名として正しいものを、次の①～④から選びなさい。(3 点)

- ① 黒田清輝 ② 藤島武二 ③ 安井曾太郎 ④ 岸田劉生

問 2 空欄 b に入る作品名として正しいものを、次の①～④から選びなさい。(3 点)

- ① 「麗子微笑」 ② 「読書」 ③ 「金蓉」 ④ 「天平の面影」

(17) 1965 (昭和 40) 年以降、 で、アメリカが大規模な軍事介入を本格化させると、沖縄や日本本土の米軍基地は前線基地となった。「基地の島」沖縄では祖国復帰を求める運動がたかまり、 に (ア) 沖縄返還協定が調印され、翌年沖縄は日本に復帰した。

問 1 空欄 a に入る語句として正しいものを、次の①～④から選びなさい。 (3 点)

- ① 太平洋戦争 ② 朝鮮戦争 ③ ベトナム戦争 ④ イラン・イラク戦争

問 2 空欄 b に入る年号として正しいものを、次の①～④から選びなさい。 (4 点)

- ① 1966 (昭和 41) 年 ② 1971 (昭和 46) 年 ③ 1976 (昭和 51) 年 ④ 1981 (昭和 56) 年

問 3 下線部 (ア) に関連して、協定調印時の首相として正しいものを、次の①～④から選びなさい。 (3 点)

- ① 佐藤栄作 ② 田中角栄 ③ 三木武夫 ④ 福田赳夫

<日本歴史> マークシート 解答 (2022)

解答番号	解答	配点	問題
1	4	3	1
2	3	3	2
3	2	4	3
4	1	4	4
5	1	4	
6	4	4	5
7	2	3	6
8	3	3	7
9	2	4	8
10	1	3	9
11	3	3	10
12	1	3	
13	2	3	
14	3	3	
15	2	3	11
16	4	3	
17	1	3	
18	3	4	12
19	4	3	13
20	4	4	
21	3	4	14
22	1	3	
23	4	4	15
24	1	3	
25	2	3	
26	4	3	16
27	1	3	
28	3	3	17
29	2	4	
30	1	3	